
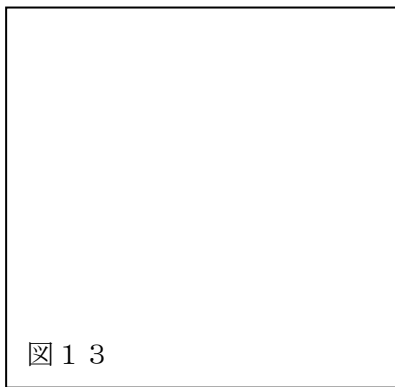





？ 電気と磁気にはどのような関係がある
だろう

⑱電流がつくる磁場

A 磁石の周りの空間	磁場
磁石にはN極とS極の2つの磁極があり、	
B 電流は磁場をつくる	電流の磁気作用、
直流電流による磁場	直線状の導線に
円形電流・ソレノイドによる磁場	円形の導線に



C 電流は磁場から力を受ける	磁場による反作用
電流は磁場をつくり、	

発展 電流が磁場から受ける力の向き
左手の中指、



コラム 電流でものを動かす	～モーターのしくみ～
直流モーターは、	

