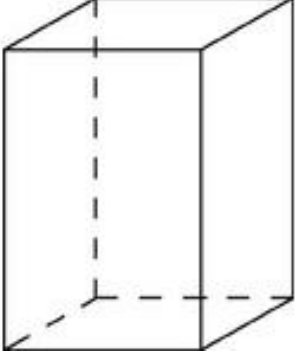
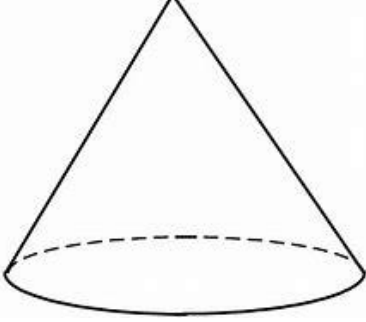



※プリントアウトもしくはノートに書き写して取り組みましょう。

りったい 立体

<small>しかくちゅう りっぽうたい ちよくほうたい</small> 四角柱 (立方体・直方体)	円錐	球
		
<ul style="list-style-type: none"> ・すべての面が四角 ・6つの面で囲まれている。 ・上から下まで同じ太さ 	<ul style="list-style-type: none"> ・底面が円 ・上に向かって細くなっている。 	<ul style="list-style-type: none"> ・丸い

○上の立体を探しましょう!

家でも TV の中でも、ネットで検索してもかまいません。

<small>しかくちゅう りっぽうたい ちよくほうたい</small> 四角柱 (立方体・直方体)	円錐	球
Empty space for student input	Empty space for student input	Empty space for student input